



**enem
2020**

CANAL SEDUC-PI6



PROFESSOR (A):

**MARCELO
LIMA**



DISCIPLINA:

GEOGRAFIA



CONTEÚDO:

REVISÃO



DATA:

23.07.2020

SE LIGA AÍ QUE É HORA DA REVISÃO !!!!

PROFº MARCELO LIMA

H16 – Identificar registros sobre o papel das técnicas e tecnologias na organização do trabalho e/ou da vida social.

Canal
Educação
PROGRAMA DE MEDIAÇÃO TECNOLÓGICA

H16 – Identificar registros sobre o papel das técnicas e tecnologias na organização do trabalho e/ou da vida social.



Entre as promessas contidas na ideologia do processo de globalização da economia estava a dispersão da produção do conhecimento na esfera global, expectativa que não se vem concretizando. Mesmo no grupo em que se engendrou a reestruturação produtiva, houve difusão desigual da mudança de paradigma tecnológico e organizacional.



Entre as promessas contidas na ideologia do processo de **globalização da economia** estava a dispersão da produção do conhecimento na esfera global, expectativa que não se vem concretizando. Mesmo no grupo em que se engendrou a reestruturação produtiva, houve difusão desigual da mudança de paradigma tecnológico e organizacional.



Entre as promessas contidas na ideologia do processo de **globalização da economia** estava a **dispersão da produção do conhecimento** na esfera global, expectativa que não se vem concretizando. Mesmo no grupo em que se engendrou a reestruturação produtiva, houve difusão desigual da mudança de paradigma tecnológico e organizacional.



Entre as promessas contidas na ideologia do processo de **globalização da economia** estava a **dispersão da produção do conhecimento** na esfera global, expectativa que não se vem concretizando. Mesmo no grupo em que se engendrou a reestruturação produtiva, **houve** **difusão desigual da mudança de paradigma tecnológico e organizacional.**

Diante das transformações ocorridas, é reconhecido que

- A) os tecnopolos, em tempos de globalização, ocupam os antigos centros de industrialização, concentrados em alguns países emergentes.
- B) as novas tecnologias se difundem com equidade no espaço geográfico e entre as populações que as incorporam em seu dia a dia.
- C) os fluxos de informações, capitais, mercadorias e pessoas têm desacelerado, obedecendo ao novo modelo fundamentado em capacidade tecnológica.

Diante das transformações ocorridas, é reconhecido que

- A) os tecnopolos, em tempos de globalização, ocupam os antigos centros de industrialização, concentrados em alguns países emergentes.
- B) as novas tecnologias se difundem com equidade no espaço geográfico e entre as populações que as incorporam em seu dia a dia.
- C) os fluxos de informações, capitais, mercadorias e pessoas têm desacelerado, obedecendo ao novo modelo fundamentado em capacidade tecnológica.

Diante das transformações ocorridas, é reconhecido que

- A) os tecnopolos, em tempos de globalização, ocupam os antigos centros de industrialização, concentrados em alguns países emergentes.
- B) as novas tecnologias se difundem com equidade no espaço geográfico e entre as populações que as incorporam em seu dia a dia.
- C) os fluxos de informações, capitais, mercadorias e pessoas têm desacelerado, obedecendo ao novo modelo fundamentado em capacidade tecnológica.

TECNOPOLOS

Um parque de ciência e tecnologia



Diante das transformações ocorridas, é reconhecido que

- A) os tecnopolos, em tempos de globalização, ocupam os antigos centros de industrialização, concentrados em alguns países emergentes.
- B) as novas tecnologias se difundem com equidade no espaço geográfico e entre as populações que as incorporam em seu dia a dia.
- C) os fluxos de informações, capitais, mercadorias e pessoas têm desacelerado, obedecendo ao novo modelo fundamentado em capacidade tecnológica.

Diante das transformações ocorridas, é reconhecido que

- A) os tecnopolos, em tempos de globalização, ocupam os antigos centros de industrialização, concentrados em alguns países emergentes.
- B) as novas tecnologias se difundem com equidade no espaço geográfico e entre as populações que as incorporam em seu dia a dia.
- C) os fluxos de informações, capitais, mercadorias e pessoas têm desacelerado, obedecendo ao novo modelo fundamentado em capacidade tecnológica.

PRINCIPAIS CENTROS DE TECNOLOGIA



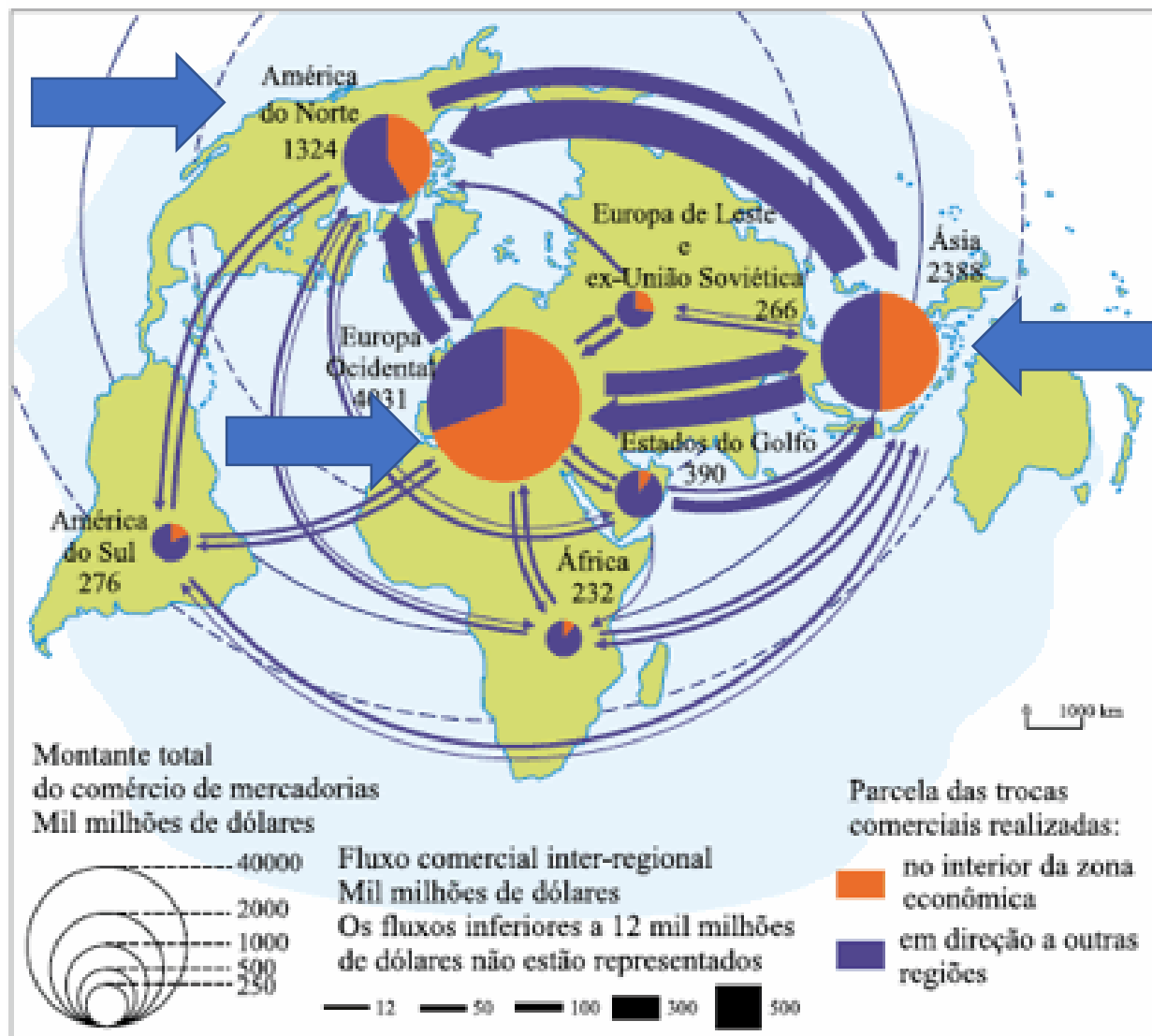
Diante das transformações ocorridas, é reconhecido que

- A) os tecnopolos, em tempos de globalização, ocupam os antigos centros de industrialização, concentrados em alguns países emergentes.
- B) as novas tecnologias se difundem com equidade no espaço geográfico e entre as populações que as incorporam em seu dia a dia.
- C) os fluxos de informações, capitais, mercadorias e pessoas têm desacelerado, obedecendo ao novo modelo fundamentado em capacidade tecnológica.

Diante das transformações ocorridas, é reconhecido que

- A) os tecnopolos, em tempos de globalização, ocupam os antigos centros de industrialização, concentrados em alguns países emergentes.
- B) as novas tecnologias se difundem com equidade no espaço geográfico e entre as populações que as incorporam em seu dia a dia.
- C) os fluxos de informações, capitais, mercadorias e pessoas têm desacelerado, obedecendo ao novo modelo fundamentado em capacidade tecnológica.

PRINCIPAIS FLUXOS COMERCIAIS.



FLUXOS

D) a inovação tecnológica tem alcançado a cidade e o campo, incorporando a agricultura, a indústria e os serviços, com maior destaque nos países desenvolvidos.

E) o crescimento econômico dos países em desenvolvimento, decorrente da dispersão da produção do conhecimento na esfera global, equipara-se ao dos países desenvolvidos.

D) a inovação tecnológica tem alcançado a cidade e o campo, incorporando a agricultura, a indústria e os serviços, com maior destaque nos países desenvolvidos.

E) o crescimento econômico dos países em desenvolvimento, decorrente da dispersão da produção do conhecimento na esfera global, equipara-se ao dos países desenvolvidos.

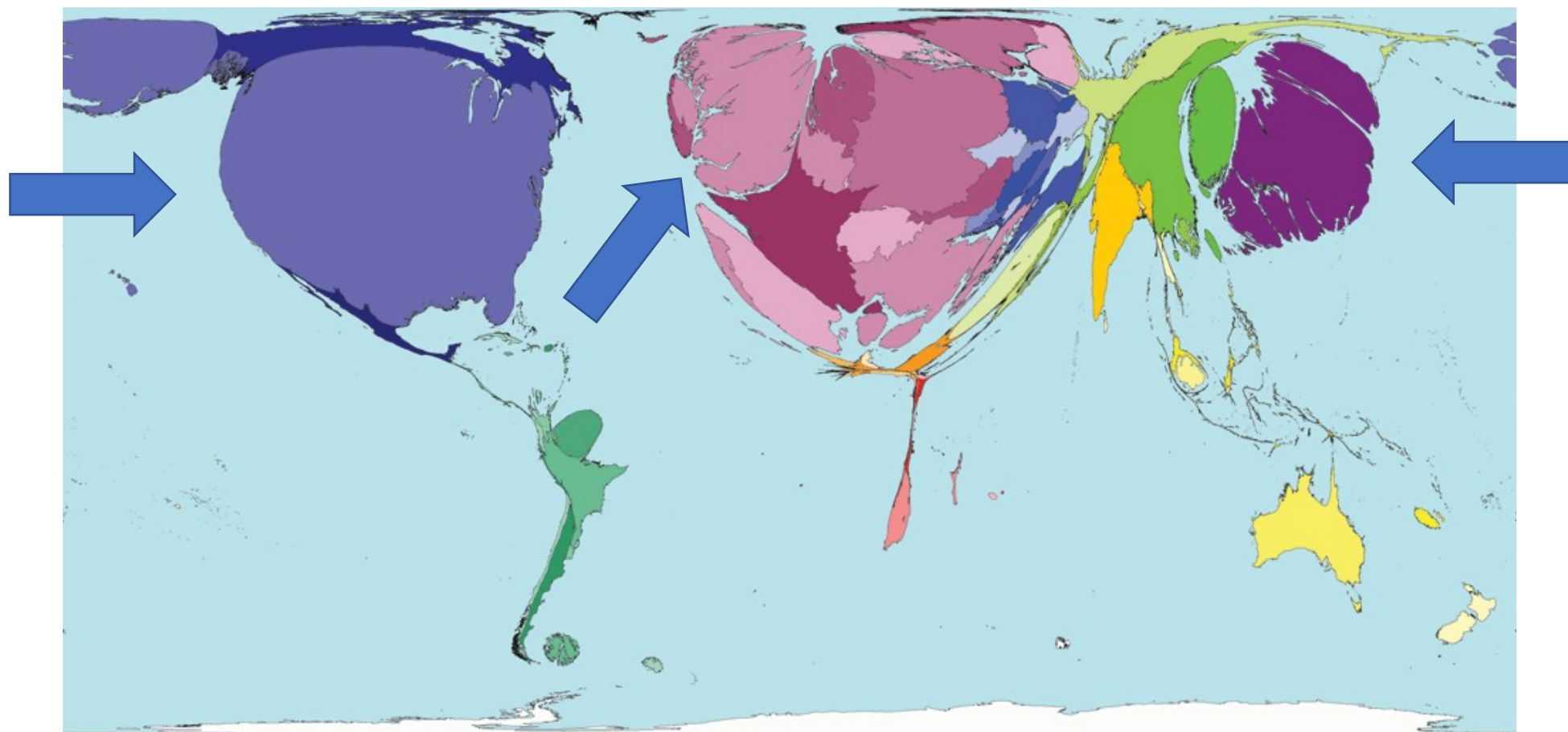
D) a inovação tecnológica tem alcançado a cidade e o campo, incorporando a agricultura, a indústria e os serviços, com maior destaque nos países desenvolvidos.

E) o crescimento econômico dos países em desenvolvimento, decorrente da dispersão da produção do conhecimento na esfera global, equipara-se ao dos países desenvolvidos.

D) a inovação tecnológica tem alcançado a cidade e o campo, incorporando a agricultura, a indústria e os serviços, com maior destaque nos países desenvolvidos.

E) o **crescimento** econômico dos **países em desenvolvimento**, decorrente da dispersão da produção do conhecimento na esfera global, **equipara-se ao dos países desenvolvidos**.

MAPA DOS PAÍSES POR PESQUISAS DESENVOLVIDAS



H18 — Analisar diferentes processos de produção ou circulação de riquezas e suas implicações sócio-espaciais.

H18 — Analisar diferentes processos de produção ou circulação de riquezas e suas implicações sócio-espaciais.



O desenvolvimento industrial brasileiro, que teve início no final do século XIX, ocorreu de forma desigual nas diferentes regiões do Brasil, pois houve uma concentração da atividade industrial, particularmente, nos Municípios de São Paulo e Rio de Janeiro.



O desenvolvimento industrial brasileiro, que teve início no final do século XIX, ocorreu de forma desigual nas diferentes regiões do Brasil, pois houve uma concentração da atividade industrial, particularmente, nos Municípios de São Paulo e Rio de Janeiro.



O desenvolvimento industrial brasileiro, que teve início no final do século XIX, ocorreu de forma desigual nas diferentes regiões do Brasil, pois houve uma concentração da atividade industrial, particularmente, nos Municípios de São Paulo e Rio de Janeiro.



O desenvolvimento industrial brasileiro, que teve início no final do século XIX, ocorreu de forma desigual nas diferentes regiões do Brasil, pois houve uma concentração da atividade industrial, particularmente, nos Municípios de São Paulo e Rio de Janeiro.

Dentre outras razões, explicam esse fato

A) a formação de um mercado interno cafeeiro na região Sul e a criação de casas de importação por emigrantes estrangeiros.

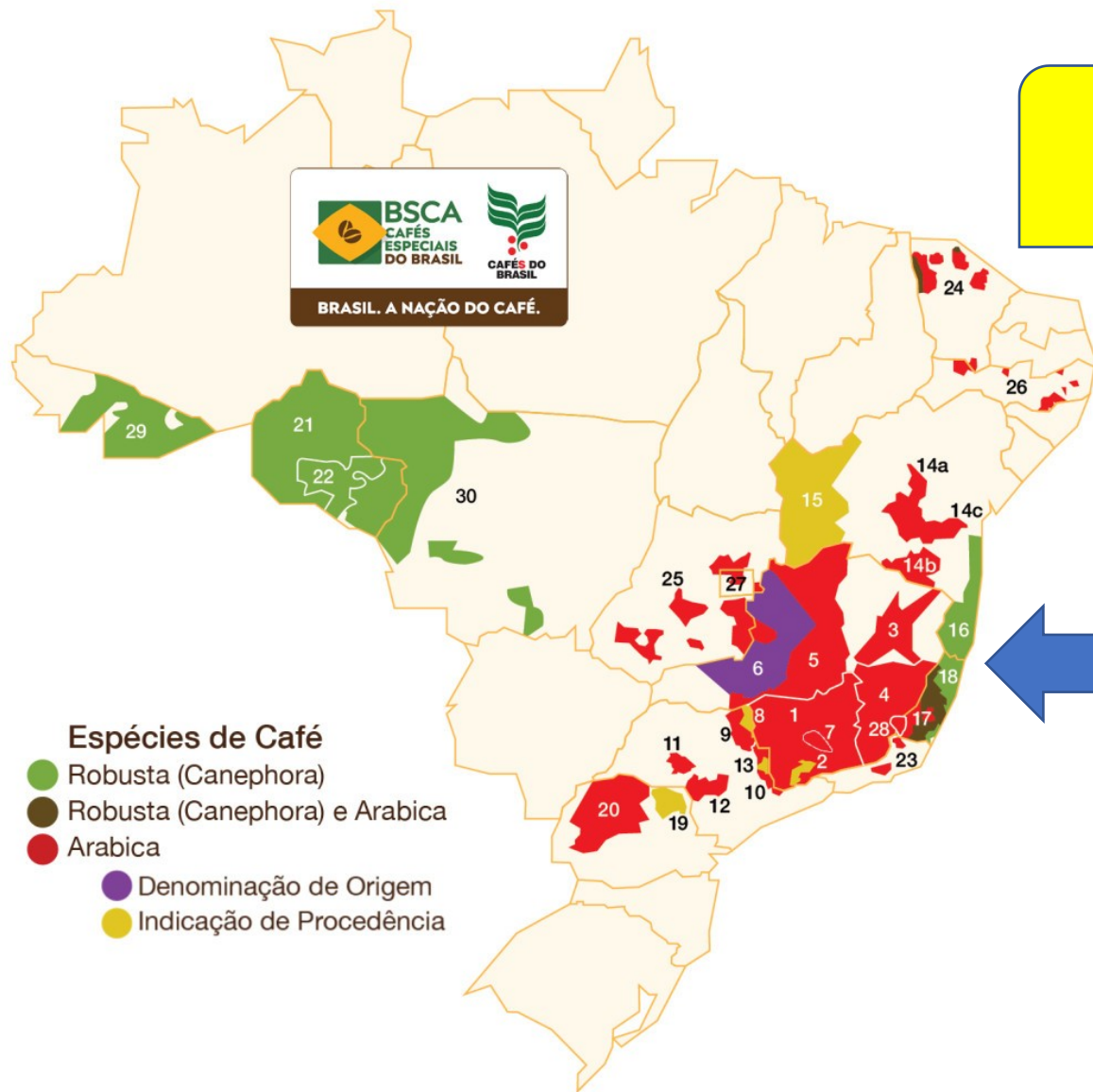
B) a abolição da escravidão e a concentração da população na região Sudeste, fato que estimulou a produção de café para o Nordeste.

Dentre outras razões, explicam esse fato

- A) a formação de um mercado interno cafeeiro na região Sul e a criação de casas de importação por emigrantes estrangeiros.
- B) a abolição da escravidão e a concentração da população na região Sudeste, fato que estimulou a produção de café para o Nordeste.

Dentre outras razões, explicam esse fato

- A) a formação de um mercado interno cafeeiro na região Sul e a criação de casas de importação por emigrantes estrangeiros.
- B) a abolição da escravidão e a concentração da população na região Sudeste, fato que estimulou a produção de café para o Nordeste.



PRODUÇÃO DE CAFÉ



Dentre outras razões, explicam esse fato

- A) a formação de um **mercado interno cafeeiro** na região **Sul** e a criação de casas de importação por emigrantes estrangeiros.
- B) a abolição da escravidão e a concentração da população na região Sudeste, fato que estimulou a produção de café para o Nordeste.

Dentre outras razões, explicam esse fato


- A) a formação de um **mercado interno cafeeiro** na região **Sul** e a criação de casas de importação por emigrantes estrangeiros.
- B) a **abolição da escravidão** e a concentração da população na região Sudeste, fato que estimulou a **produção de café para o Nordeste**.

ABOLIÇÃO DA ESCRAVATURA: 1888

ENTRADA DE IMIGRANTES

AUMENTO DO MERCADO CONSUMIDOR

INVESTIMENTOS NA CIDADE



- C) o domínio da cafeicultura no Sudeste, a consequente acumulação de capital e a imigração estrangeira que se dirigiu para essa região.
- D) o domínio da mineração em São Paulo e a fundação de casas de exportação que tinham como objetivo abastecer o mercado brasileiro de produtos nacionais.
- E) o desenvolvimento de empresas de extração mineral em São Paulo, que permitiu a acumulação de capital, e o consequente fluxo de emigrantes que para lá se dirigiu.

C) o domínio da cafeicultura no Sudeste, a consequente acumulação de capital e a imigração estrangeira que se dirigiu para essa região.

D) o domínio da mineração em São Paulo e a fundação de casas de exportação que tinham como objetivo abastecer o mercado brasileiro de produtos nacionais.

E) o desenvolvimento de empresas de extração mineral em São Paulo, que permitiu a acumulação de capital, e o consequente fluxo de emigrantes que para lá se dirigiu.

CAFÉ E A INDÚSTRIA

MÃO- DE - OBRA LIVRE

MERCADO CONSUMIDOR

INFRAESTRUTURA

CAPITAL



Imigrantes trabalhando numa colheita de café no Oeste Paulista.

C) o domínio da cafeicultura no Sudeste, a consequente acumulação de capital e a imigração estrangeira que se dirigiu para essa região.

D) o domínio da mineração em São Paulo e a fundação de casas de exportação que tinham como objetivo abastecer o mercado brasileiro de produtos nacionais.

E) o desenvolvimento de empresas de extração mineral em São Paulo, que permitiu a acumulação de capital, e o consequente fluxo de emigrantes que para lá se dirigiu.

- C) o domínio da cafeicultura no Sudeste, a consequente acumulação de capital e a imigração estrangeira que se dirigiu para essa região.
- D) o domínio da mineração em São Paulo e a fundação de casas de exportação que tinham como objetivo abastecer o mercado brasileiro de produtos nacionais.
- E) o desenvolvimento de empresas de extração mineral em São Paulo, que permitiu a acumulação de capital, e o consequente fluxo de emigrantes que para lá se dirigiu.



A MINERAÇÃO SÉC. XVIII

Canal
Educação
PROGRAMA DE MEDIAÇÃO TECNOLÓGICA

C) o domínio da cafeicultura no Sudeste, a consequente acumulação de capital e a imigração estrangeira que se dirigiu para essa região.

D) o domínio da mineração em São Paulo e a fundação de casas de exportação que tinham como objetivo abastecer o mercado brasileiro de produtos nacionais.

E) o desenvolvimento de empresas de extração mineral em São Paulo, que permitiu a acumulação de capital, e o consequente fluxo de emigrantes que para lá se dirigiu.

- C) o domínio da cafeicultura no Sudeste, a consequente acumulação de capital e a imigração estrangeira que se dirigiu para essa região.
- D) o domínio da mineração em São Paulo e a fundação de casas de exportação que tinham como objetivo abastecer o mercado brasileiro de produtos nacionais.
- E) o desenvolvimento de empresas de extração mineral em São Paulo, que permitiu a acumulação de capital, e o consequente fluxo de emigrantes que para lá se dirigiu.

H8 – Analisar a ação dos estados nacionais no que se refere à dinâmica dos fluxos populacionais e no enfrentamento de problemas de ordem econômico-social.

H8 – Analisar a ação dos estados nacionais no que se refere à dinâmica dos fluxos populacionais e no enfrentamento de problemas de ordem econômico-social.

3. (Uel 2020)

Estamos vivendo uma nova fase na história, uma mudança no patamar da presença humana na Terra. O crescimento explosivo da população, que nos levou ao presente marco de 7 bilhões de pessoas, com a atual projeção de 10 bilhões em meados do século XXI, é uma realidade histórico-social de pouco mais de 200 anos.

PROGRAMA DE MEDIAÇÃO TECNOLÓGICA

3. (Uel 2020)

Estamos vivendo uma nova fase na história, uma mudança no patamar da presença humana na Terra. O crescimento explosivo da população, que nos levou ao presente marco de 7 bilhões de pessoas, com a atual projeção de 10 bilhões em meados do século XXI, é uma realidade histórico-social de pouco mais de 200 anos.

PROGRAMA DE MEDIAÇÃO TECNOLÓGICA



Com base nos gráficos e nos conhecimentos sobre a evolução da estrutura etária brasileira,

- A) a saúde pública é uma discussão iminente, pois a tendência de aumento do número de idosos nos próximos anos pressionará a demanda por cuidados, qualidade de vida, tratamentos e hospitais.
- B) o aspecto triangular da pirâmide etária na projeção para 2020 mostra um decréscimo percentual do bônus demográfico de homens e mulheres.

Com base nos gráficos e nos conhecimentos sobre **a evolução da estrutura etária brasileira,**

- A) a saúde pública é uma discussão iminente, pois a tendência de aumento do número de idosos nos próximos anos pressionará a demanda por cuidados, qualidade de vida, tratamentos e hospitais.
- B) o aspecto triangular da pirâmide etária na projeção para 2020 mostra um decréscimo percentual do bônus demográfico de homens e mulheres.


Com base nos gráficos e nos conhecimentos sobre a evolução da estrutura etária brasileira,

- A) a saúde pública é uma discussão iminente, pois a tendência de aumento do número de idosos nos próximos anos pressionará a demanda por cuidados, qualidade de vida, tratamentos e hospitais.
- B) o aspecto triangular da pirâmide etária na projeção para 2020 mostra um decréscimo percentual do bônus demográfico de homens e mulheres.

Um País de Idosos



Porcentagem de Idosos na População



Expectativa de Vida

	1980	2000	2010	2020
	62 anos	70 anos	73 anos	77 anos

Com base nos gráficos e nos conhecimentos sobre **a evolução da estrutura etária brasileira,**

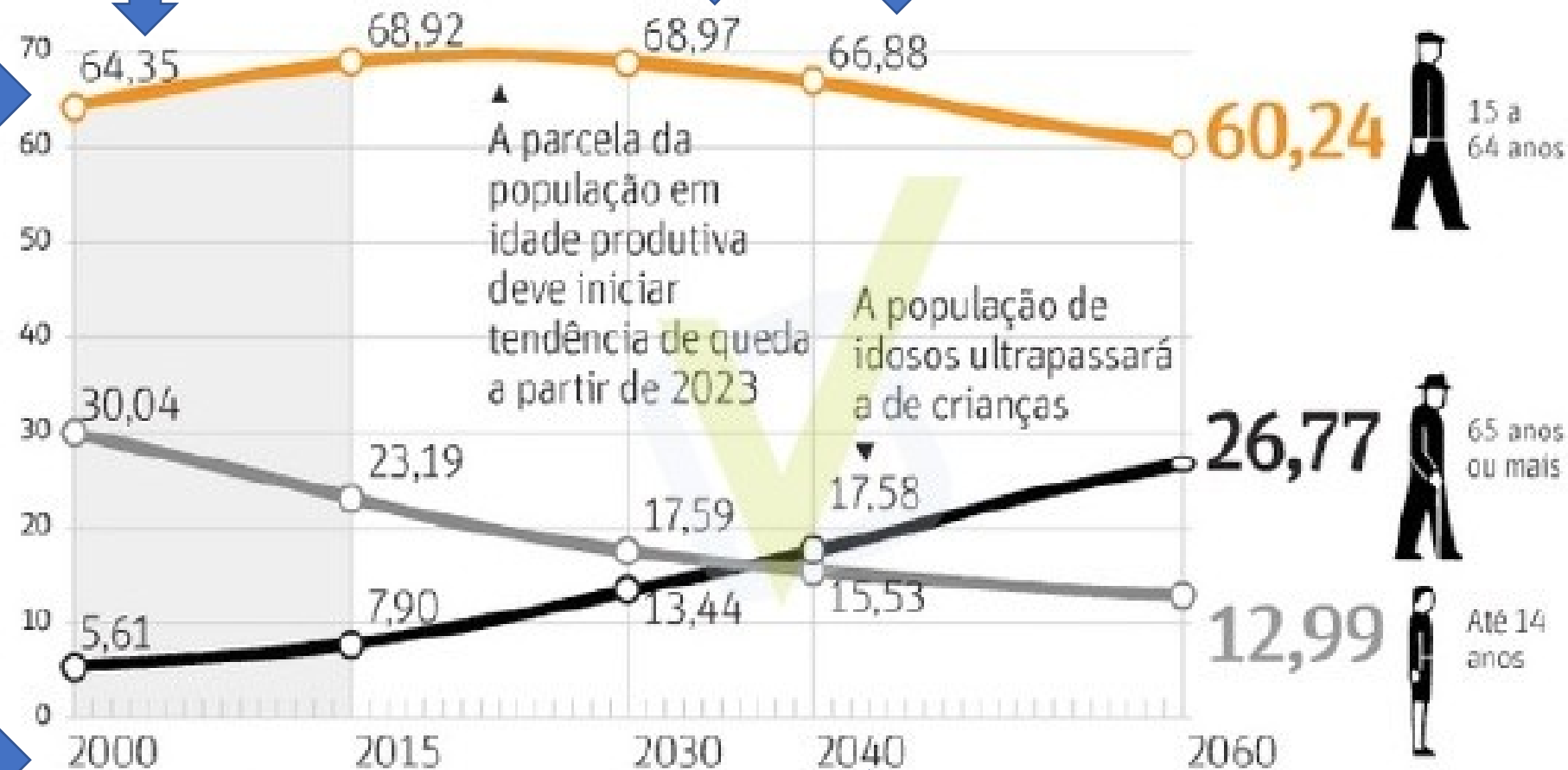
- A) a saúde pública é uma discussão iminente, pois a tendência de aumento do número de idosos nos próximos anos pressionará a demanda por cuidados, qualidade de vida, tratamentos e hospitais.**
- B) o aspecto triangular da pirâmide etária na projeção para 2020 mostra um decréscimo percentual do bônus demográfico de homens e mulheres.**

Com base nos gráficos e nos conhecimentos sobre a evolução da estrutura etária brasileira,

- A) a saúde pública é uma discussão iminente, pois a tendência de aumento do número de idosos nos próximos anos pressionará a demanda por cuidados, qualidade de vida, tratamentos e hospitais.
- B) o aspecto triangular da pirâmide etária na projeção para 2020 mostra um decréscimo percentual do bônus demográfico de homens e mulheres.

Essa situação, no entanto, só vai durar até a próxima década

Percentual da população por faixa etária, segundo projeções do IBGE

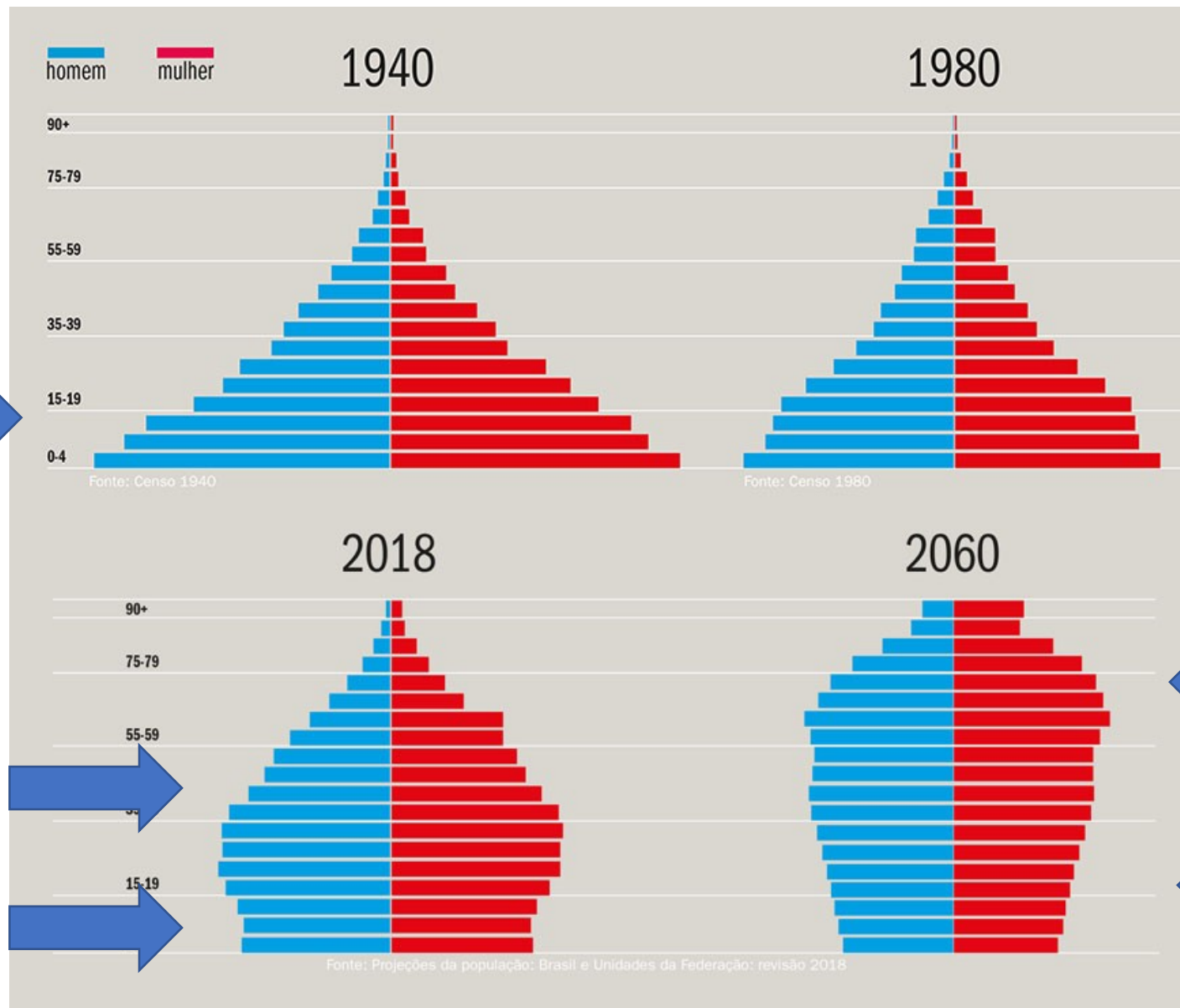



(Disponível: https://onlinelibrary.unicamp.br/files.wordpress.com/2015/04/bonus_demogr.png).

Acesso: 15 ago. 2011 Adaptado.)

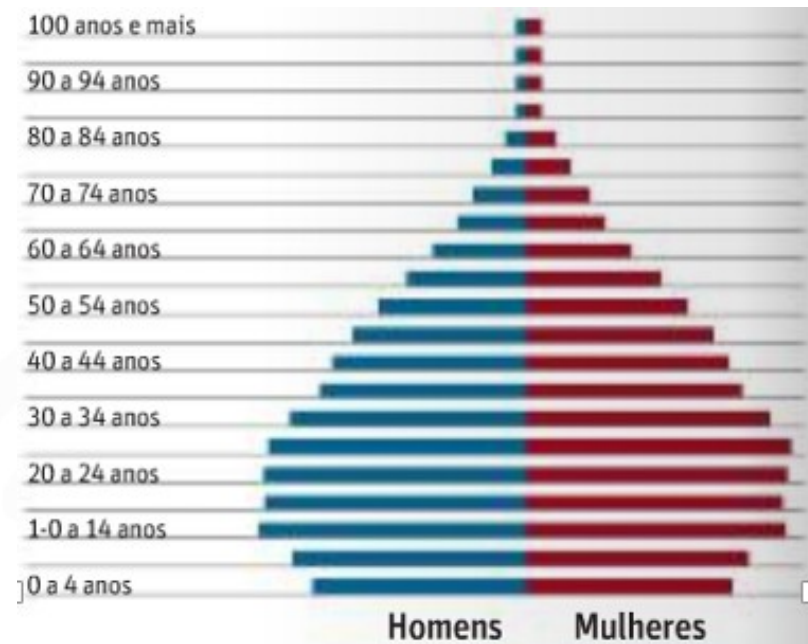
- C) as mudanças ocorridas no Brasil em relação à transição demográfica demonstram que a população idosa na década de 1980 era superior à população jovem em 2020.
- D) as mulheres de 70 anos ou mais, em 1980, representavam em média 6 milhões de habitantes, enquanto que em 2020 representará, em média, 2 milhões.
- E) o crescimento vegetativo brasileiro apresentou aumento, já que parcela significativa de mão de obra feminina foi dispensada influenciando no aumento do número de crianças de 0 a 4 anos.

- C) as mudanças ocorridas no Brasil em relação à transição demográfica demonstram que à **população idosa na década de 1980 era superior à população jovem em 2020.**
- D) as mulheres de 70 anos ou mais, em 1980, representavam em média 6 milhões de habitantes, enquanto que em 2020 representará, em média, 2 milhões.
- E) o crescimento vegetativo brasileiro apresentou aumento, já que parcela significativa de mão de obra feminina foi dispensada influenciando no aumento do número de crianças de 0 a 4 anos.



- C) as mudanças ocorridas no Brasil em relação à transição demográfica demonstram que à **população idosa na década de 1980 era superior à população jovem em 2020.**
- D) as mulheres de 70 anos ou mais, em 1980, representavam em média 6 milhões de habitantes, enquanto que em 2020 representará, em média, 2 milhões.
- E) o crescimento vegetativo brasileiro apresentou aumento, já que parcela significativa de mão de obra feminina foi dispensada influenciando no aumento do número de crianças de 0 a 4 anos.

- C) as mudanças ocorridas no Brasil em relação à transição demográfica demonstram que a população idosa na década de 1980 era superior à população jovem em 2020.
- D) as mulheres de 70 anos ou mais, em 1980, representavam em média 6 milhões de habitantes, enquanto que em 2020 representará, em média, 2 milhões.
- E) o crescimento vegetativo brasileiro apresentou aumento, já que parcela significativa de mão de obra feminina foi dispensada influenciando no aumento do número de crianças de 0 a 4 anos.



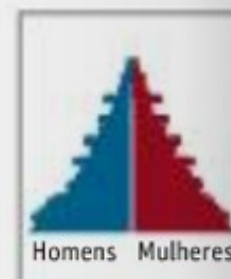
**POR
GÊNERO**

49%
homens



51%
mulheres

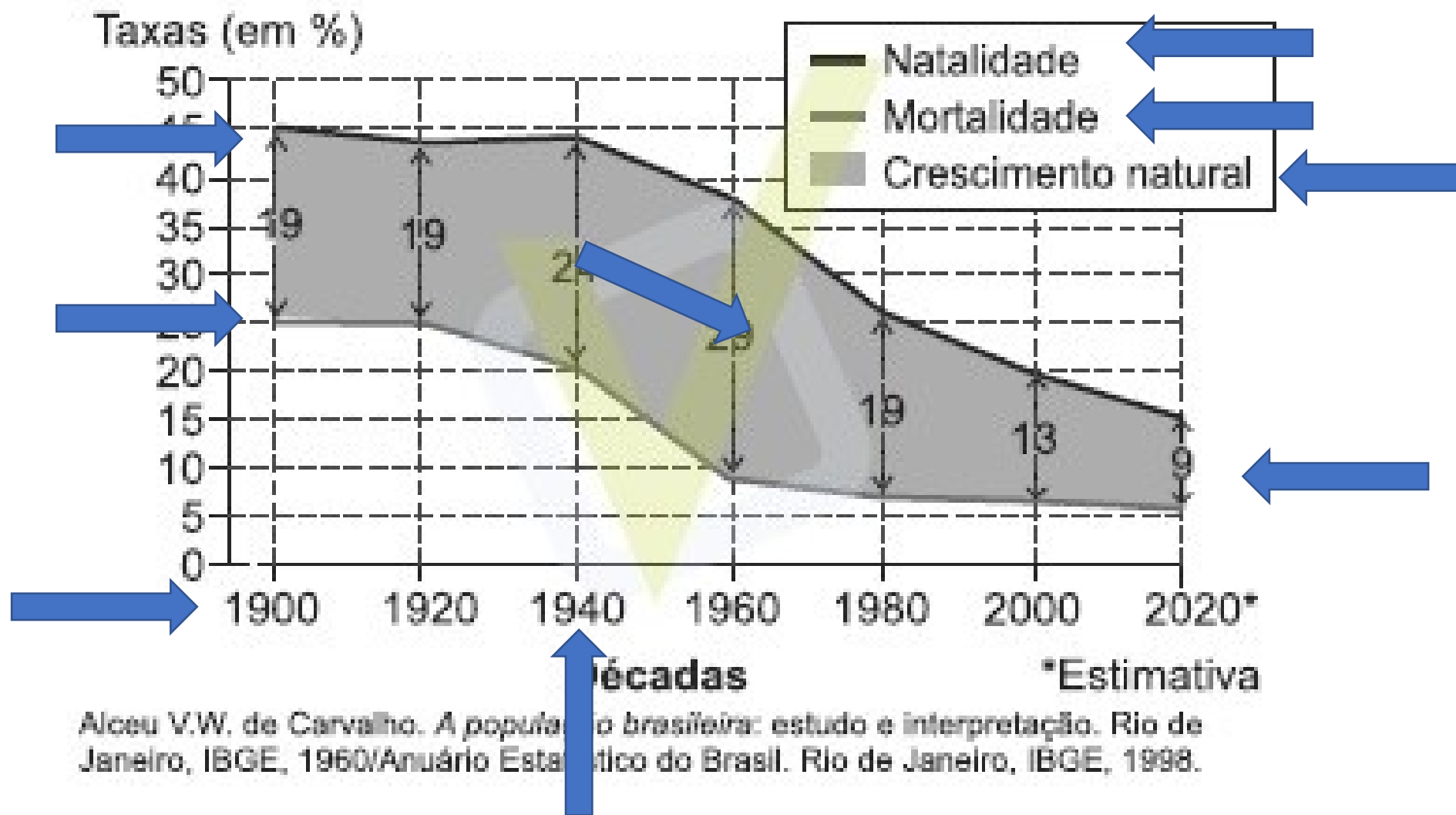
A pirâmide
em 1960



- C) as mudanças ocorridas no Brasil em relação à transição demográfica demonstram que à **população idosa na década de 1980 era superior à população jovem em 2020.**
- D) as **mulheres de 70 anos ou mais, em 1980,** representavam em média **6 milhões de habitantes,** enquanto que em **2020 representará, em média, 2 milhões.**
- E) o crescimento vegetativo brasileiro apresentou aumento, já que parcela significativa de mão de obra feminina foi dispensada influenciando no aumento do número de crianças de 0 a 4 anos.

- C) as mudanças ocorridas no Brasil em relação à transição demográfica demonstram que a população idosa na década de 1980 era superior à população jovem em 2020.
- D) as mulheres de 70 anos ou mais, em 1980, representavam em média 6 milhões de habitantes, enquanto que em 2020 representará, em média, 2 milhões.
- E) o crescimento vegetativo brasileiro apresentou aumento, já que parcela significativa de mão de obra feminina foi dispensada influenciando no aumento do número de crianças de 0 a 4 anos.

Crescimento natural da população brasileira



H18 – Analisar diferentes processos de produção ou circulação de riquezas e suas implicações sócio-espaciais.

Canal
Educação
PROGRAMA DE MEDIAÇÃO TECNOLÓGICA

H18 – Analisar diferentes processos de produção ou circulação de riquezas e suas implicações sócio-espaciais.

4. Os gargalos rodoviários do Brasil e o caótico trânsito das suas metrópoles forçam os governos estaduais e federal a retomar os planos de implantação dos trens regionais. Durante as últimas quatro décadas, a malha ferroviária foi esquecida e sucateada, tanto que hoje, em todo o país, apenas duas linhas de passageiros estão funcionando. Transportam 1,5 milhão de pessoas entre Belo Horizonte (MG) e Vitória (ES) e entre São Luís (MA) e Carajás (PA) – as duas operadas pela mineradora Vale. Nos anos 1960, mais de 100 milhões de passageiros utilizavam trens interurbanos no território nacional.

4. **Os gargalos rodoviários do Brasil** e o caótico trânsito das suas metrópoles forçam os governos estaduais e federal a retomar os planos de implantação dos trens regionais. Durante as últimas quatro décadas, a malha ferroviária foi esquecida e sucateada, tanto que hoje, em todo o país, apenas duas linhas de passageiros estão funcionando. Transportam 1,5 milhão de pessoas entre Belo Horizonte (MG) e Vitória (ES) e entre São Luís (MA) e Carajás (PA) – as duas operadas pela mineradora Vale. Nos anos 1960, mais de 100 milhões de passageiros utilizavam trens interurbanos no território nacional.

4. Os gargalos rodoviários do Brasil e o caótico trânsito das suas metrópoles forçam os governos estaduais e federal a retomar os planos de implantação dos trens regionais. Durante as últimas quatro décadas, a malha ferroviária foi esquecida e sucateada, tanto que hoje, em todo o país, apenas duas linhas de passageiros estão funcionando. Transportam 1,5 milhão de pessoas entre Belo Horizonte (MG) e Vitória (ES) e entre São Luís (MA) e Carajás (PA) – as duas operadas pela mineradora Vale. Nos anos 1960, mais de 100 milhões de passageiros utilizavam trens interurbanos no território nacional.

4. Os gargalos rodoviários do Brasil e o caótico trânsito das suas metrópoles forçam os governos estaduais e federal a retomar os planos de implantação dos trens regionais. Durante as últimas quatro décadas, a malha ferroviária foi esquecida e sucateada, tanto que hoje, em todo o país, apenas duas linhas de passageiros estão funcionando. Transportam 1,5 milhão de pessoas entre Belo Horizonte (MG) e Vitória (ES) e entre São Luís (MA) e Carajás (PA) – as duas operadas pela mineradora Vale. Nos anos 1960, mais de 100 milhões de passageiros utilizavam trens interurbanos no território nacional.

O sucateamento do meio de transporte descrito foi provocado pela

- A) redução da demanda populacional por trens interurbanos.
- B) inadequação dos trajetos em função da extensão do país.
- C) precarização tecnológica frente a outros meios de deslocamento.
- D) priorização da malha rodoviária no período de modernização do espaço.
- E) ampliação dos problemas ambientais associados à conservação das ferrovias.











O sucateamento do meio de transporte descrito foi provocado pela

- A) redução da demanda populacional por trens interurbanos.
- B) inadequação dos trajetos em função da extensão do país.
- C) precarização tecnológica frente a outros meios de deslocamento.
- D) priorização da malha rodoviária no período de modernização do espaço.
- E) ampliação dos problemas ambientais associados à conservação das ferrovias.

MATRIZ DE TRANSPORTE

Matriz do Transporte de Cargas

	Modal	Participação (%)
→	Rodoviário	61,1 ←
→	Ferroviano	20,7
→	Aquaviário	13,6
→	Dutoviário	4,2
→	Aéreo	0,4
	Total	100,0

		BRIC				Mil Km de via	
							
		Brasil	China	Índia	Rússia	EUA	Canadá
Área (milhões km ²)		8,5	9,6	3,0	17,0	9,1	9,0
	Rodovias Pavimentadas	219	1.576	1.569	776	4.375	416
	Ferrovias	29	86	64	87	225	47
	Dutovias	19	87	35	260	2.225	100
	Hidrovia	14	110	15	102	41	0,6

O sucateamento do meio de transporte descrito foi provocado pela

- A) redução da demanda populacional por trens interurbanos.
- B) inadequação dos trajetos em função da extensão do país.
- C) precarização tecnológica frente a outros meios de deslocamento.
- D) priorização da malha rodoviária no período de modernização do espaço.
- E) ampliação dos problemas ambientais associados à conservação das ferrovias.

O sucateamento do meio de transporte descrito foi provocado pela

- A) **redução da demanda populacional** por trens interurbanos.
- B) inadequação dos trajetos em função da extensão do país.
- C) precarização tecnológica frente a outros meios de deslocamento.
- D) priorização da malha rodoviária no período de modernização do espaço.
- E) ampliação dos problemas ambientais associados à conservação das ferrovias.

O sucateamento do meio de transporte descrito foi provocado pela

- A) redução da demanda populacional por trens interurbanos.
- B) inadequação dos trajetos em função da extensão do país.
- C) precarização tecnológica frente a outros meios de deslocamento.
- D) priorização da malha rodoviária no período de modernização do espaço.
- E) ampliação dos problemas ambientais associados à conservação das ferrovias.

O sucateamento do meio de transporte descrito foi provocado pela

- A) redução da demanda populacional por trens interurbanos.
- B) inadequação dos trajetos em função da extensão do país.
- C) precarização tecnológica frente a outros meios de deslocamento.
- D) priorização da malha rodoviária no período de modernização do espaço.
- E) ampliação dos problemas ambientais associados à conservação das ferrovias.

O sucateamento do meio de transporte descrito foi provocado pela

- A) redução da demanda populacional por trens interurbanos.
- B) inadequação dos trajetos em função da extensão do país.
- C) precarização tecnológica frente a outros meios de deslocamento.
- D) priorização da malha rodoviária no período de modernização do espaço.
- E) ampliação dos problemas ambientais associados à conservação das ferrovias.

O sucateamento do meio de transporte descrito foi provocado pela

- A) redução da demanda populacional por trens interurbanos.
- B) inadequação dos trajetos em função da extensão do país.
- C) precarização tecnológica frente a outros meios de deslocamento.
- D) priorização da malha rodoviária no período de modernização do espaço.
- E) ampliação dos problemas ambientais associados à conservação das ferrovias.

H29 – Reconhecer a função dos recursos naturais na produção do espaço geográfico, relacionando-os com as mudanças provocadas pelas ações humanas.

Callaló
Educação
PROGRAMA DE MEDIAÇÃO TECNOLÓGICA

H29 – Reconhecer a função dos recursos naturais na produção do espaço geográfico, relacionando-os com as mudanças provocadas pelas ações humanas.

Canal
Educação
PROGRAMA DE MEDIAÇÃO TECNOLÓGICA



Os corredores ecológicos são áreas de grande expressão territorial comparáveis, em alguns casos, à superfície de países europeus. Os corredores ecológicos da região amazônica podem ser associados



Os corredores ecológicos são áreas de grande expressão territorial comparáveis, em alguns casos, à superfície de países europeus. Os corredores ecológicos da região amazônica podem ser associados



- A) à delimitação de bacias hidrográficas no Domínio Amazônico, com base no Zoneamento Ecológico e Econômico.
- B) à integração ecológica e econômica entre os estados da região Norte, podendo esta integração envolver outros países como Colômbia e Bolívia.
- C) às áreas protegidas existentes, incluindo unidades de conservação de proteção integral e de uso sustentável, reservas particulares e terras indígenas.

- A) à **delimitação de bacias hidrográficas** no Domínio Amazônico, com base no Zoneamento Ecológico e Econômico.
- B) à integração ecológica e econômica entre os estados da região Norte, podendo esta integração envolver outros países como Colômbia e Bolívia.
- C) às áreas protegidas existentes, incluindo unidades de conservação de proteção integral e de uso sustentável, reservas particulares e terras indígenas.

- A) à **delimitação de bacias hidrográficas** no Domínio Amazônico, com base no Zoneamento Ecológico e Econômico.
- B) à **integração ecológica e econômica entre os estados** da região Norte, podendo esta integração envolver outros países como Colômbia e Bolívia.
- C) às áreas protegidas existentes, incluindo unidades de conservação de proteção integral e de uso sustentável, reservas particulares e terras indígenas.

- A) à **delimitação de bacias hidrográficas** no Domínio Amazônico, com base no Zoneamento Ecológico e Econômico.
- B) à **integração ecológica e econômica entre os estados** da região Norte, podendo esta integração envolver outros países como Colômbia e Bolívia.
- C) às **áreas protegidas existentes, incluindo unidades de conservação de proteção integral e de uso sustentável, reservas particulares e terras indígenas.**

D) aos investimentos em redes de trafegabilidade de pessoas e produtos em áreas da floresta ombrófila densa e do cerrado, na fronteira com o estado do Mato Grosso.

E) à política de conservação do meio ambiente de forma sustentável, que promove a implantação de projetos de mineração, exploração de madeira e preservação dos remanescentes florestais.

D) aos investimentos em **redes de trafegabilidade de pessoas** e produtos em áreas da floresta ombrófila densa e do cerrado, na fronteira com o estado do Mato Grosso.

E) à política de conservação do meio ambiente de forma sustentável, que promove a implantação de projetos de mineração, exploração de madeira e preservação dos remanescentes florestais.

PROGRAMA DE MEDIAÇÃO TECNOLÓGICA

D) aos investimentos em **redes de trafegabilidade de pessoas** e produtos em áreas da floresta ombrófila densa e do cerrado, na fronteira com o estado do Mato Grosso.

E) à política de conservação do meio ambiente de forma sustentável, que promove a implantação de **projetos de mineração, exploração de madeira e preservação** dos remanescentes florestais.

OBRIGADO !